


Schreibspiel Nr. 177

Name:

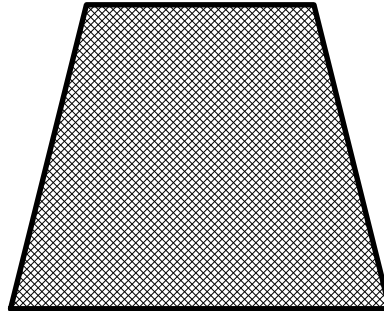
© Rudolf B. Wohlgemuth, 26160 Bad Zwischenahn, Tel. 04403-916014

Klasse: Datum:


Deine Aufgabe ist es jetzt, Gemeinsamkeiten zwischen den abgebildeten Darstellungen zu finden.
Ordne die drei Darstellungen nach ihren Gemeinsamkeiten.



Quadrat



Trapez



Kreis

	Gemeinsamkeiten
1	
2	
3	
4	
5	
6	
7	
8	
9	
10	
11	
12	
13	
14	
15	
16	
17	
18	